

Instrucciones:

- a) Duración: 1 hora y 30 minutos
b) La presente prueba consta de dos opciones (A y B), de las cuales deberá desarrollar solamente una
c) En todos los casos se considerarán elementos de ponderación de la nota final la calidad de la redacción y la claridad gramatical y ortográfica. La calificación máxima va expresada bajo cada pregunta

OPCIÓN A

1. Exprese de modo conciso el significado geográfico de los siguientes términos:

- Zócalo
- Paralelo geográfico
- Equinoccio
- Tasa de natalidad
- Pesca de bajura
- Industria metalúrgica

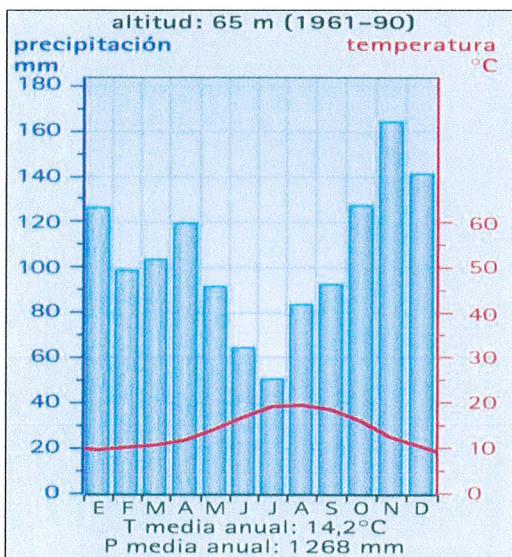
(Valoración: hasta 3 puntos; máximo 0,5 puntos por término)

2. La figura siguiente representa dos climogramas. Con la información que contienen responda a las siguientes preguntas:

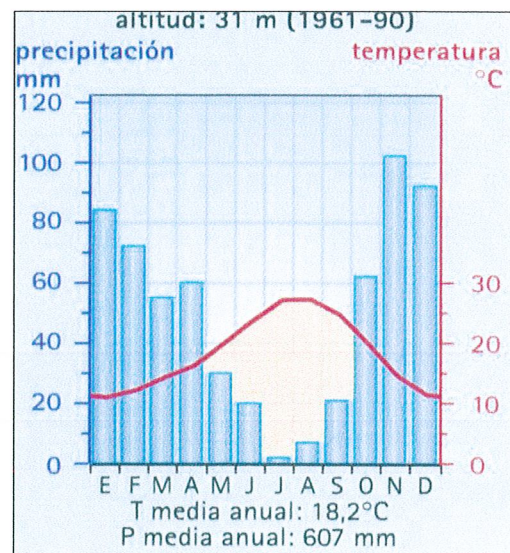
- a) Explique las diferencias pluviométricas mensuales y estacionales entre estas dos representaciones climáticas. (Hasta 1 punto)
b) Halle, aproximadamente, la oscilación térmica anual en cada uno de los diagramas y explique cómo se refleja el concepto de aridez. (Hasta 1 punto)
c) ¿Qué tipo de clima representa cada uno? ¿En qué lugares de España se podrían localizar? Razone brevemente las dos respuestas. (Hasta 2 puntos).

(Valoración: Hasta 4 puntos)

CLIMOGRAMA A



CLIMOGRAMA B



3. La evolución de la ciudad en España: morfología y estructura urbanas.

(Tema libre, para cuyo desarrollo se sugiere realizar un esquema previo)

(Valoración: Hasta 3 puntos)

Instrucciones:

- a) Duración: 1 hora y 30 minutos
b) La presente prueba consta de dos opciones (A y B), de las cuales deberá desarrollar solamente una
c) En todos los casos se considerarán elementos de ponderación de la nota final la calidad de la redacción y la claridad gramatical y ortográfica. La calificación máxima va expresada bajo cada pregunta

OPCIÓN B

1. Expresé de modo conciso el significado geográfico de los siguientes términos:

- Torrente - Sotavento - Marisma
- Tasa de fecundidad - Sistema de ciudades - Ganadería intensiva
(Valoración: hasta 3 puntos; máximo 0,5 puntos por término)

2. El mapa muestra la estructura espacial y la densidad de la industria en España en 1975. Tras su observación responda a las siguientes cuestiones:

- a) Diga el nombre de las Comunidades Autónomas que tienen más de 16 trabajadores/Km². (Hasta 1 punto)
b) Identifique y diga el nombre de las ciudades con más de 50.000 empleos situadas en las Comunidades Autónomas de Galicia, Asturias, Aragón, Castilla y León y Andalucía. (Hasta 1 punto)
c) Explique los principales rasgos de la distribución espacial de la industria en España. (Hasta 2 puntos)
(Valoración: hasta 4 puntos)

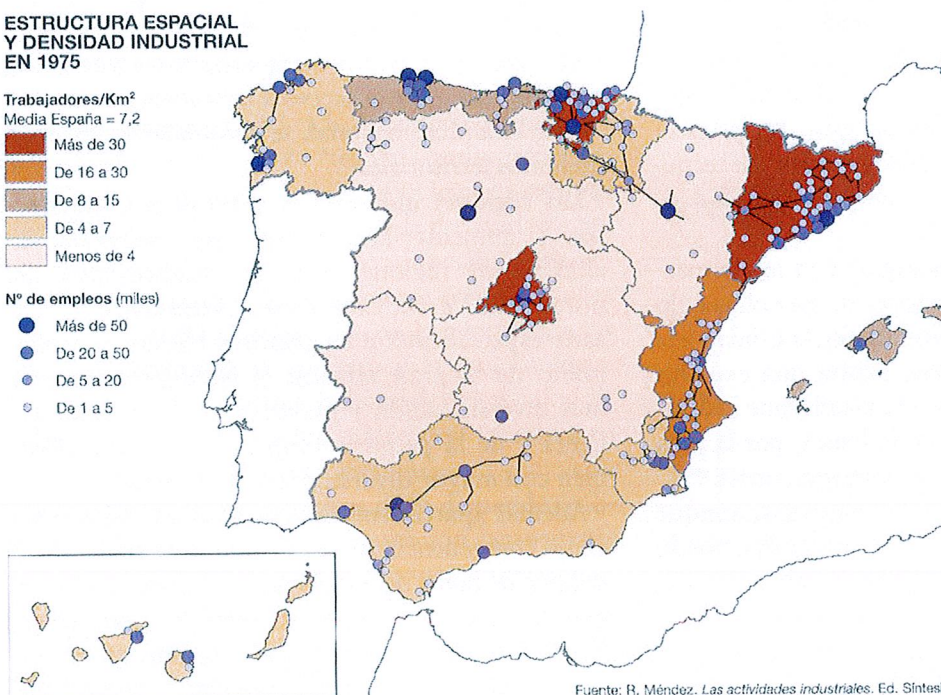
**ESTRUCTURA ESPACIAL
Y DENSIDAD INDUSTRIAL
EN 1975**

Trabajadores/Km²
Media España = 7,2

■	Más de 30
■	De 16 a 30
■	De 8 a 15
■	De 4 a 7
■	Menos de 4

Nº de empleos (miles)

●	Más de 50
●	De 20 a 50
●	De 5 a 20
○	De 1 a 5



Fuente: R. Méndez. *Las actividades industriales*. Ed. Síntesis.

3. Caracteres generales del relieve español.

(Tema libre, para cuyo desarrollo se sugiere realizar un esquema previo)

(Valoración: hasta 3 puntos)

CRITERIOS ESPECÍFICOS DE CORRECCIÓN

1ª. En las respuestas a los seis conceptos propuestos, se valorará:

- a) La precisión y adecuación del vocabulario empleado para cada respuesta.
- b) La claridad conceptual.

(Valor: hasta **tres** puntos, entre 0,0 y 0,5 puntos cada una de las seis preguntas formuladas)

2ª En el análisis y comentario de los gráficos, se valorará:

- a) La profundidad del comentario.
- b) La correcta utilización terminológica.
- c) La capacidad de análisis y de descripción de los fenómenos.
- d) La madurez en la interpretación y relación de las secuencias de los mismos.

(Valor: hasta **cuatro puntos**, con la puntuación parcial máxima que se refleja en cada una de las tres o cuatro preguntas formuladas)

3ª En el desarrollo de los temas propuestos, se valorará:

- a) La ordenación y estructuración de los contenidos y la coherencia de la exposición.
- b) La precisión y claridad en la exposición de los conceptos.
- c) El grado y profundidad de los conocimientos.
- d) La capacidad de síntesis y de interrelación.

(Valor: hasta **tres puntos**, ponderándose para todo el ejercicio todos y cada uno de los criterios enunciados en este apartado)

Estas son las valoraciones que quedan reflejadas, de igual modo, en cada una de las partes de que consta el examen.

En todos los casos se considerarán elementos de ponderación de la nota final la calidad de la redacción y la corrección gramatical y ortográfica