



- Instrucciones:
- Duración: 1 hora y 30 minutos.
  - La presente prueba consta de dos opciones (A y B), de las cuales deberá desarrollar solamente una.
  - En todos los casos se considerarán elementos de ponderación de la nota final la calidad de la redacción y la claridad gramatical y ortográfica. La calificación máxima va expresada bajo cada pregunta.

**OPCIÓN A**

1. Expresar de modo conciso el significado geográfico de los siguientes términos:

Área metropolitana  
Parcela de cultivo

Zócalo  
Continentalidad

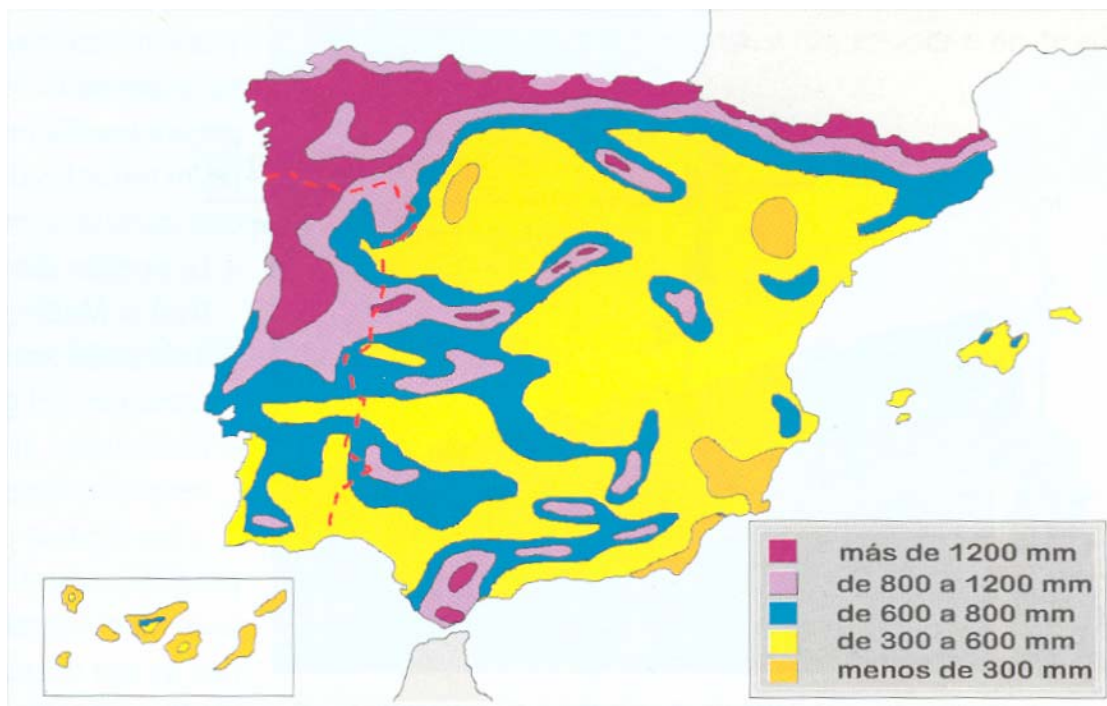
Infraestructura turística  
Cuenca hidrográfica

(Valoración: hasta 3 puntos)

2. El mapa representa la distribución de precipitaciones medias anuales en España. Analícelo y responda a las siguientes preguntas:

- Diga el nombre de las Comunidades Autónomas donde se producen precipitaciones con valores de más de 1.200 mm.
- Comente la relación existente entre los valores de precipitaciones y el relieve de la Península.
- Compare las precipitaciones que se reciben en el Noroeste peninsular y las que se reciben en el Sureste de la península. Diga las diferencias que existen y explique las posibles causas.

(Valoración: hasta 3 puntos)



3. La población española en el siglo XX: evolución y distribución.  
(Tema libre, para cuyo desarrollo se sugiere realizar un esquema previo)

(Valoración: hasta 4 puntos)



**UNIVERSIDADES DE ANDALUCÍA**  
**PRUEBA DE ACCESO A LA UNIVERSIDAD**

**GEOGRAFÍA**

- Instrucciones:
- a) Duración: 1 hora y 30 minutos.
  - b) La presente prueba consta de dos opciones (A y B), de las cuales deberá desarrollar solamente una.
  - c) En todos los casos se considerarán elementos de ponderación de la nota final la calidad de la redacción y la claridad gramatical y ortográfica. La calificación máxima va expresada bajo cada pregunta.

**OPCIÓN B**

1. Exprese de modo conciso el significado geográfico de los siguientes términos:

Estiaje de un río  
Balanza de pagos

Relieve alpino  
Tasa bruta de mortalidad

Anticiclón  
Política Agraria Comunitaria

(Valoración: hasta 3 puntos)




2. El mapa representa los usos del suelo agrario. Analícelo y conteste las cuestiones siguientes:

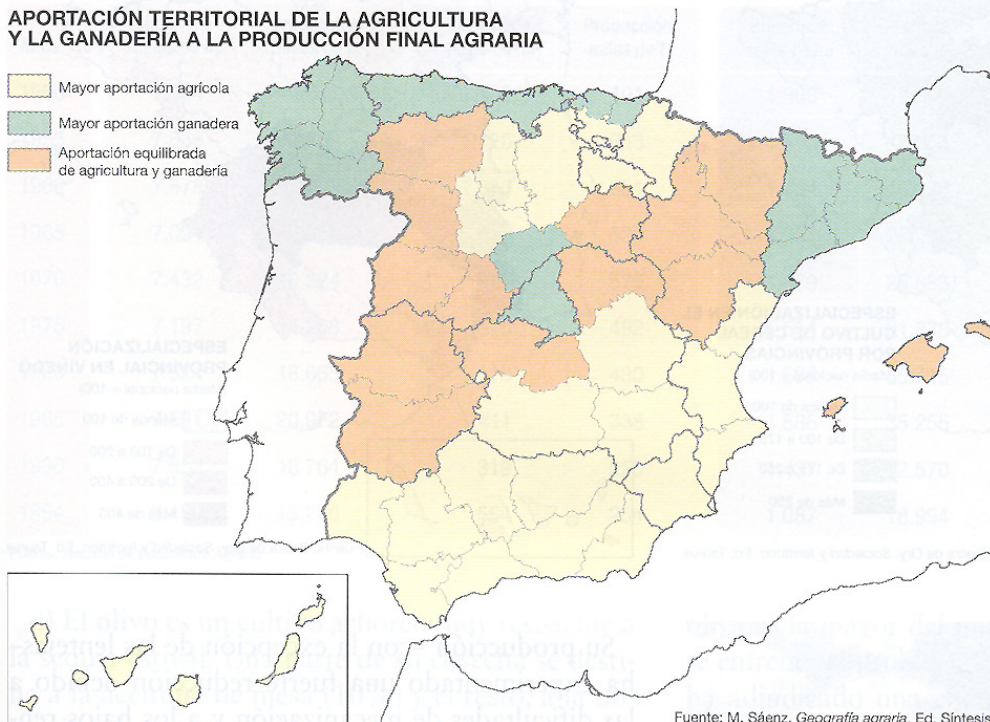
- a) Nombre todas las provincias que tienen una *aportación equilibrada de agricultura y ganadería*
- b) ¿Qué relaciones pueden existir entre cada uno de estos usos y las condiciones naturales de España?
- c) Elementos predominantes en los paisajes de las áreas con mayor aportación agrícola y elementos predominantes en los paisajes de las áreas con mayor aportación ganadera. Enumérelos y distíngalos.

(Valoración: hasta 3 puntos)

**LOS USOS DEL SUELO AGRARIO**

**APORTACIÓN TERRITORIAL DE LA AGRICULTURA Y LA GANADERÍA A LA PRODUCCIÓN FINAL AGRARIA**

-  Mayor aportación agrícola
-  Mayor aportación ganadera
-  Aportación equilibrada de agricultura y ganadería



Fuente: M. Sáenz. *Geografía agraria*. Ed. Síntesis.

3. La Meseta y sus relieves interiores y periféricos

(Tema libre, para cuyo desarrollo se sugiere realizar un esquema previo)

(Valoración: hasta 4 puntos)