



Instrucciones: a) Duración: 1 hora y 30 minutos
b) La presente prueba consta de dos opciones (A y B), de las cuales deberá desarrollar solamente una
c) En todos los casos se considerarán elementos de ponderación de la nota final la calidad de la redacción y la claridad gramatical y ortográfica. La calificación máxima va expresada bajo cada pregunta

OPCIÓN A

1. Exprese de modo conciso el significado geográfico de los siguientes términos:

Latitud geográfica
Borrasca

Cuenca hidrográfica
Censo de población

Latifundio
Ensanche urbano

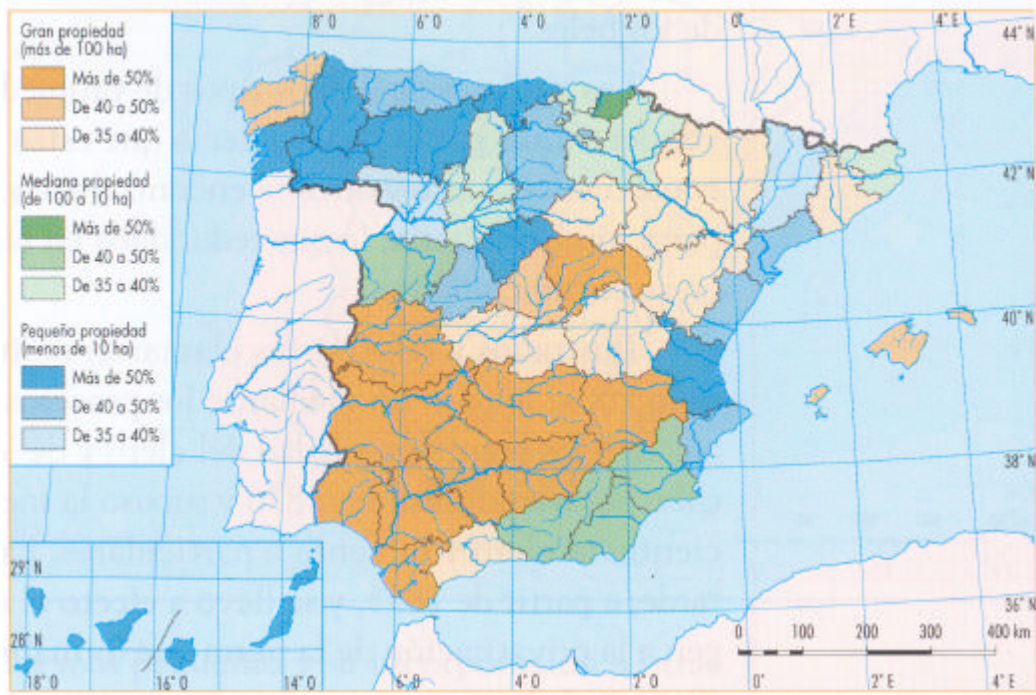
(Valoración: hasta 3 puntos)

2. En el mapa se representa la distribución de la propiedad agraria por provincias. Conteste a las siguientes preguntas:

- ¿En qué provincias la pequeña propiedad supone más del 50% del total de la propiedad agraria? ¿Son sinónimos "pequeña propiedad" y "minifundio"? Si no lo fuesen cuáles serían las diferencias.
- ¿En qué provincias la gran propiedad supone más del 50% del total de la propiedad agraria? ¿Son sinónimos "gran propiedad" y "latifundio"? Si no lo fuesen cuáles serían las diferencias.
- Explique las causas de las que deriva esta distribución y las consecuencias principales que se han derivado de ella

(Valoración: hasta 3 puntos)

Distribución de la propiedad agraria por provincias



3. Vertientes hidrográficas de la Península Ibérica y sus características

(Tema libre, para cuyo desarrollo se sugiere realizar un esquema previo)

(Valoración: hasta 4 puntos)



Instrucciones: a) Duración: 1 hora y 30 minutos
b) La presente prueba consta de dos opciones (A y B), de las cuales deberá desarrollar solamente una
c) En todos los casos se considerarán elementos de ponderación de la nota final la calidad de la redacción y la claridad gramatical y ortográfica. La calificación máxima va expresada bajo cada pregunta

OPCIÓN B

1. Exprese de modo conciso el significado geográfico de los siguientes términos:

Oriental
Precipitaciones

Estiaje de un río
Éxodo rural

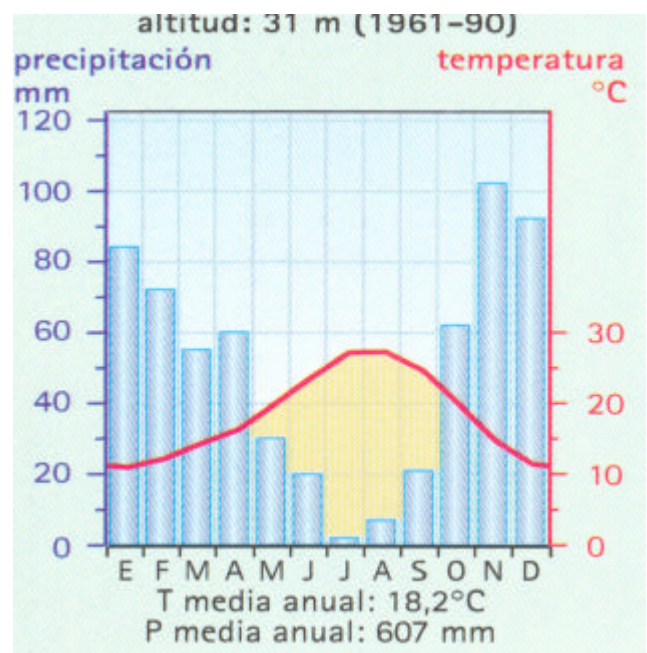
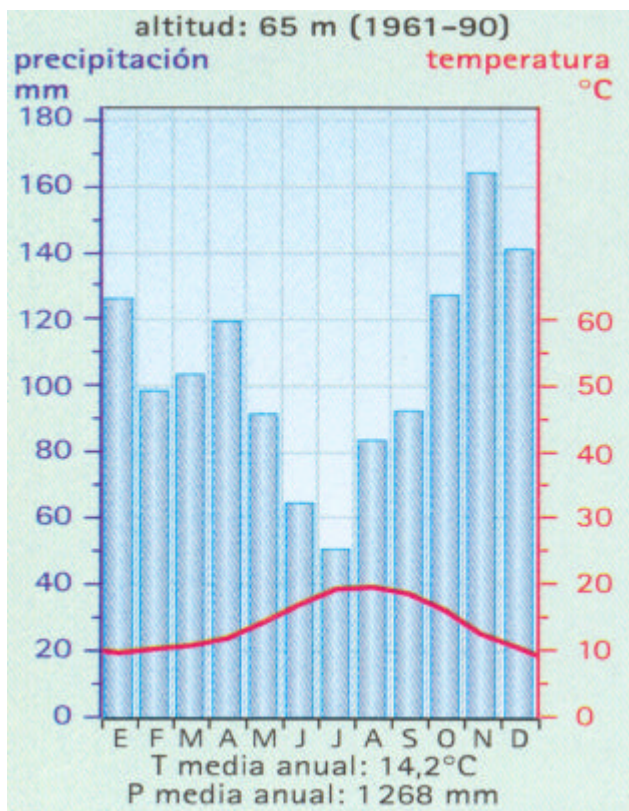
Industria Metalúrgica
Hábitat disperso

(Valoración: hasta 3 puntos)

2. La figura siguiente representa dos diagramas ombrotérmicos (climogramas). Con la información que contienen responda a las siguientes preguntas:

- Explique las diferencias pluviométricas mensuales y estacionales entre estas dos representaciones climáticas.
- Halle, aproximadamente, la oscilación térmica en cada uno de los diagramas y explique cómo se refleja el concepto de aridez.
- ¿Qué dos tipos de clima representan cada uno? ¿dónde se podrían localizar? Razone brevemente la respuesta

(Valoración: hasta 3 puntos)



3. Movimientos migratorios en España durante el siglo XX y primer lustro del XXI

(Tema libre, para cuyo desarrollo se sugiere realizar un esquema previo)

(Valoración: hasta 4 puntos)