

PRUEBA ACCESO A CICLOS FORMATIVOS DE GRADO MEDIO	PARTE SOCIAL
---	--------------

DATOS DEL ASPIRANTE	CALIFICACIÓN PRUEBA
Apellidos:	Nombre:
D.N.I. o Pasaporte:	Fecha de nacimiento: / /

Instrucciones:

- **Lee atentamente cada una de las preguntas antes de contestar.**
- **La puntuación máxima de cada pregunta está indicada en cada enunciado.**
- **Revisa cuidadosamente la prueba antes de entregarla.**

1) Indica si son VERDADERAS o FALSAS las siguientes afirmaciones:
PUNTO

1

- El Trópico de Cáncer se encuentra en el Hemisferio Norte.
- El comercio actual se caracteriza por el trueque.
- España es un país densamente poblado.
- El matrimonio homosexual es un derecho en España.
- Blas Infante escribió el Estatuto de Autonomía.

2) Relaciona mediante flechas los siguientes conceptos:
PUNTO

1

- | | |
|--|---|
| <ul style="list-style-type: none"> - GOBIERNO - LLUVIA ÁCIDA - PARLAMENTO - MARTIN LUTERO - <i>CAYUCO</i> | <ul style="list-style-type: none"> - INMIGRACIÓN - PODER LEGISLATIVO - CONTAMINACIÓN - PODER EJECUTIVO - REFORMA PROTESTANTE |
|--|---|

3) Marca con una X las afirmaciones correctas entre las que aparecen a continuación:

1 PUNTO

- El Imperio Romano dominó todo el Mar Mediterráneo.
- Las leyes las redacta y aprueba el Gobierno de la Nación.
- La Catedral de Sevilla es de arquitectura gótica.
- La silvicultura es una tendencia artística.
- El *mercadillo* es una forma de comercio al por mayor.

4) Corrige las afirmaciones anteriores que sean falsas, redactándolas correctamente:
1 PUNTO

- _____

- _____

- _____

- _____

- _____



5) Empareja las siguientes definiciones con su concepto adecuado, marcando el número correspondiente en cada casilla:

1 PUNTO

- | | | |
|--------------------------|--|----------------|
| <input type="checkbox"/> | Sociedad prehistórica nómada y de economía depredadora. | 1. MERIDIANOS |
| <input type="checkbox"/> | Religión monoteísta fundada por Mahoma en Arabia. | 2. NEOLÍTICO |
| <input type="checkbox"/> | Sociedad prehistórica sedentaria y de economía productora. | 3. PARALELOS |
| <input type="checkbox"/> | Líneas imaginarias utilizadas para establecer la longitud de un punto. | 4. ISLAM |
| <input type="checkbox"/> | Líneas imaginarias utilizadas para establecer la latitud de un punto. | 5. PALEOLÍTICO |

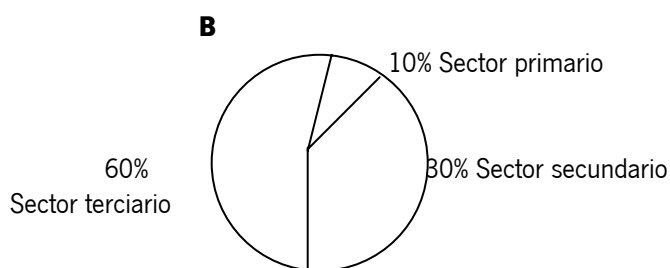
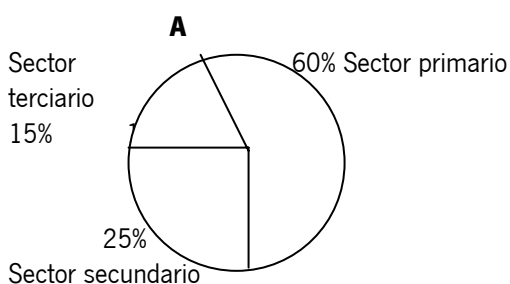
6) Relaciona mediante flechas los siguientes problemas sociales y políticos con cada uno de los Derechos Humanos que le corresponda:

1 PUNTO

- | | |
|--------------------------|---------------------------|
| - ANALFABETISMO | - Libertad de conciencia. |
| - CHABOLISMO | - Libertad de expresión. |
| - CENSURA | - Derecho a la vivienda. |
| - PARTIDO ÚNICO | - Derecho a la educación. |
| - INTOLERANCIA RELIGIOSA | - Libertad de asociación. |

7) Observa las gráficas siguientes y contesta las preguntas a continuación:

1



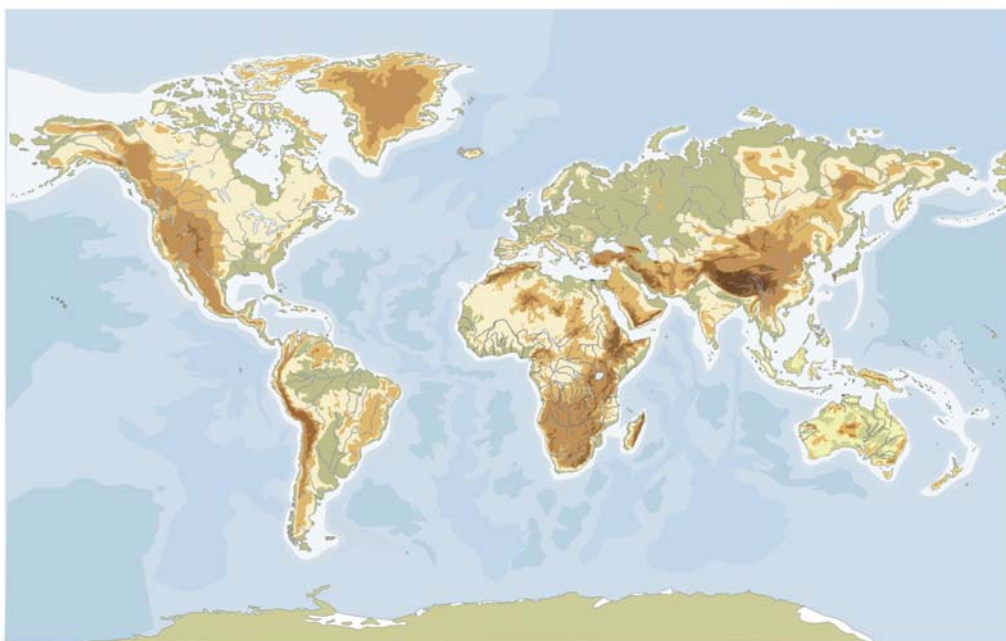
- ¿Cuál de las dos gráficas corresponde a un país subdesarrollado? ¿A o B?
_____ ¿Por qué? _____

- Indica un ejemplo de país subdesarrollado: _____
- Indica tres características de las sociedades subdesarrolladas:



8) Localiza y sitúa en el PLANISFERIO las siguientes referencias geográficas: 2 PUNTOS

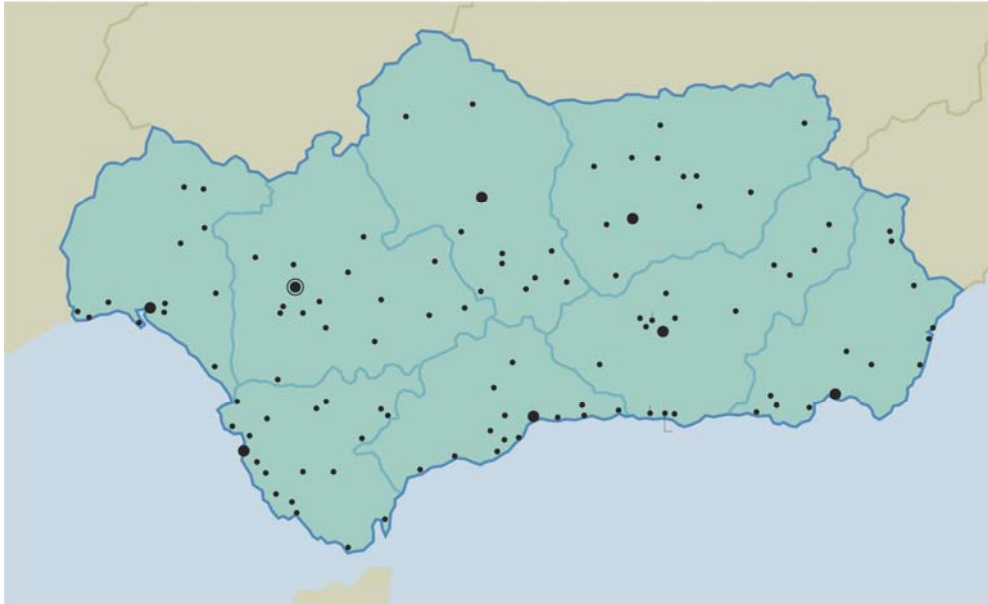
- Línea del ECUADOR
- La ANTÁRTIDA
- Cordillera de los ANDES.
- Mar MEDITERRÁNEO
- Río NÍGER
- Meridiano 0° ó de GREENWICH.
- OCEANO ATLÁNTICO
- AUSTRALIA
- Gran Llanura de SIBERIA
- Cabo NORTE



**9) Localiza en el MAPA DE ANDALUCÍA los siguientes BIENES DE INTERÉS CULTURAL:
1 PUNTO**

- La Giralda
- Monasterio de La Rábida
- Museo Pablo Picasso
- Conjunto del Albaicín.
- Mezquita-Catedral





PRUEBA ACCESO A CICLOS FORMATIVOS DE GRADO MEDIO

PARTE SOCIAL

DATOS DEL ASPIRANTE		CALIFICACIÓN PRUEBA	
Apellidos:		Nombre:	
D.N.I. o Pasaporte:	Fecha de nacimiento: / /		

Instrucciones:

- **Lee atentamente cada una de las preguntas antes de contestar.**
- **La puntuación máxima de cada pregunta está indicada en cada enunciado.**
- **Revisa cuidadosamente la prueba antes de entregarla.**

1) Completa el siguiente texto con los datos que faltan utilizando las palabras del recuadro y considerando que éste contiene 5 términos erróneos:

2 PUNTOS

Vivimos en un _____ que forma parte del sistema _____. Por tanto, damos una vuelta al año alrededor del _____ que provoca la aparición de dos movimientos: el de _____, que provoca la aparición de las estaciones, y el de _____ que dura 24 horas. La Tierra presenta tres grandes zonas climáticas: _____, _____ y _____, en función de la inclinación con que llegan a esas zonas los rayos del _____.

Nuestro país ocupa la mayor parte de la península _____. Su clima es diverso, de tipo _____ en el Norte, _____ en el interior y _____ en la franja levantina y meridional.

Representamos la Tierra y sus espacios en los _____, para lo cual hemos reducido su tamaño, que podemos reconocer gracias a la _____. Ésta puede ser de dos tipos: _____ y _____. Para localizar un punto en la superficie de la Tierra debemos conocer su _____ y su _____, basadas en la red de _____ y _____, líneas imaginarias que cubren la superficie terrestre.

MAPAS	MERIDIANOS	NUMÉRICA	PLANETA	MEDITERRÁNEO
TEMPLADAS	ECUATORIAL	LATITUD	POLAR	CONTINENTAL
IBÉRICA	TRASLACIÓN	CÁLIDAS	FRÍAS	ESPAÑOLA
LONGITUD	OCEÁNICO	ROTACIÓN	SOLAR	PARALELOS
PLANOS	ESCALA	SOL	UBICACIÓN	GRÁFICA

2) Indica si son VERDADERAS o FALSAS las siguientes afirmaciones:

1

PUNTO

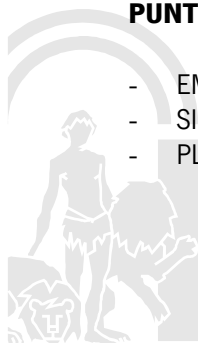
- La sociedad medieval se organizaba en estamentos.
- La escultura barroca se caracteriza por el naturalismo.
- La Revolución Industrial se inició en Estados Unidos en el S. XV.
- La primera democracia se desarrolló en Suecia en el S. XVIII.
- La Península Ibérica estuvo dividida en diversos reinos cristianos durante la Edad Media.

3) Relaciona mediante flechas los siguientes conceptos:

1

PUNTO

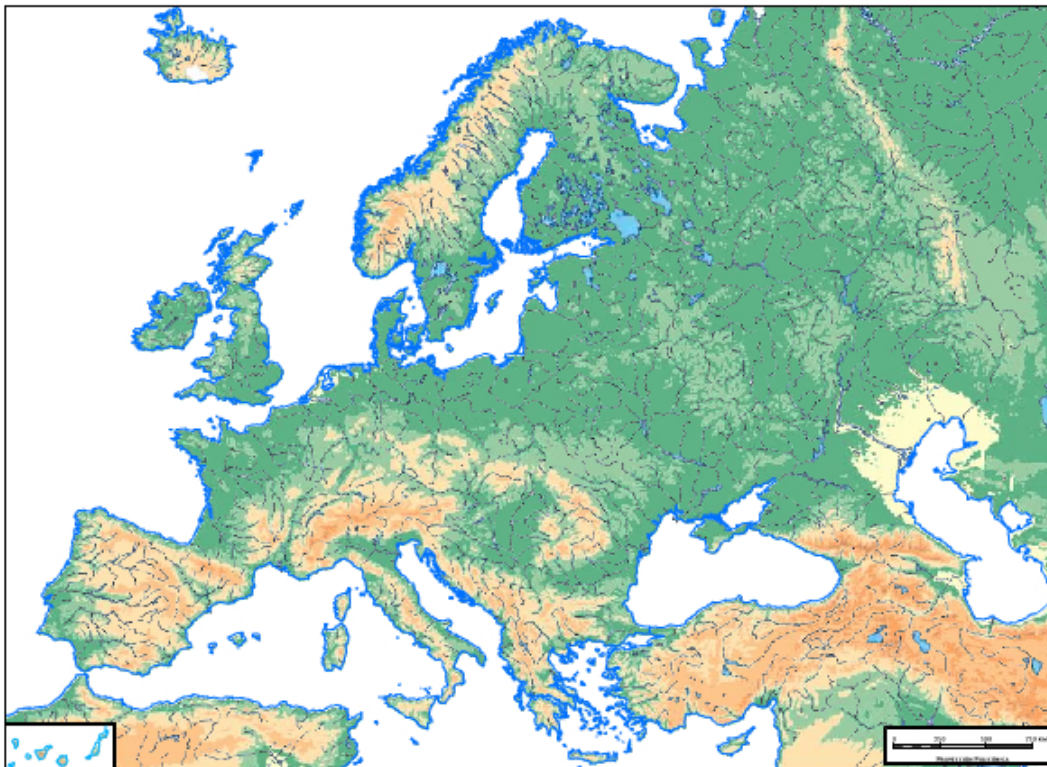
- | | |
|-------------------|---------------------|
| - EMIGRACIÓN | - RELIEVE TERRESTRE |
| - SILVICULTURA | - CIUDAD ISLÁMICA |
| - PLANO IRREGULAR | - SECTOR SECUNDARIO |



- SIDERURGIA
- LLANURAS
- RECURSOS VEGETALES
- MOVIMIENTOS DE POBLACIÓN

4) Localiza y sitúa en el MAPA DE EUROPA las siguientes referencias geográficas:
PUNTOS

2



- MAR NEGRO
- PENÍNSULA ESCANDINAVA
- MAR BÁLTICO
- CANAL DE LA MANCHA
- ISLA DE IRLANDA
- CORDILLERA DE LOS ALPES
- RÍO DANUBIO
- ESTRECHO DE GIBRALTAR
- PENÍNSULA BALCÁNICA
- ISLA DE SICILIA

5) Empareja las siguientes definiciones con su concepto adecuado, marcando el número correspondiente en cada casilla:

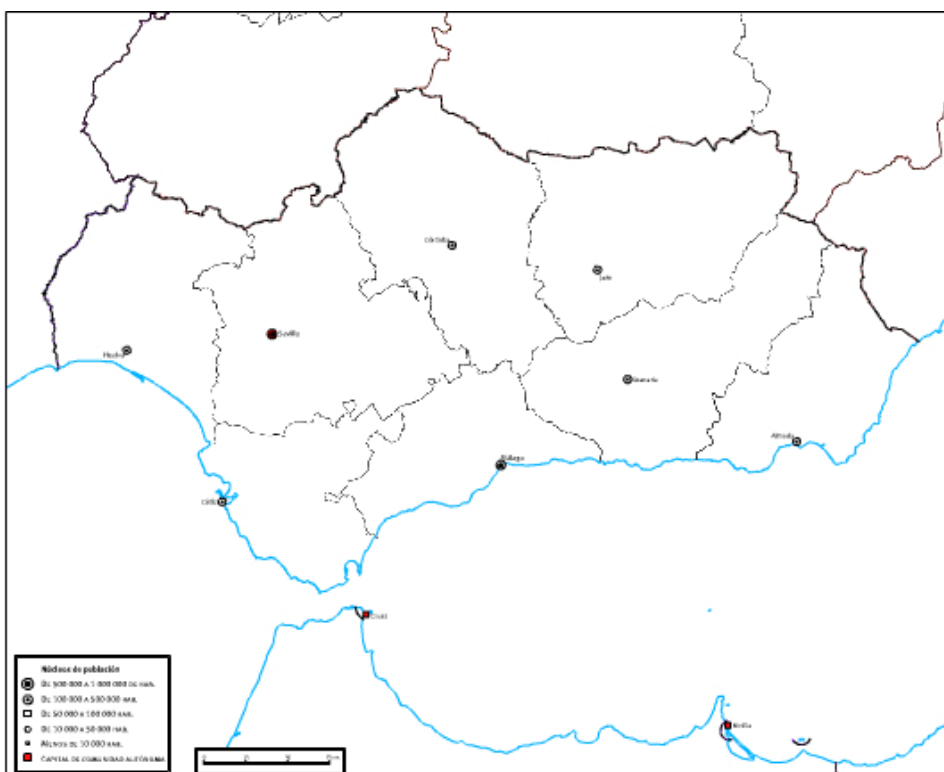
1 PUNTO

- | | | |
|--------------------------|--|------------------------|
| <input type="checkbox"/> | El poder reside en el pueblo. | 1. Las Cortes. |
| <input type="checkbox"/> | Ejerce la Jefatura del Estado español. | 2. Poder Ejecutivo. |
| <input type="checkbox"/> | Representa a los ciudadanos españoles. | 3. Poder Judicial. |
| <input type="checkbox"/> | Se encarga de la política interior y exterior. | 4. La Corona. |
| <input type="checkbox"/> | La justicia emana del pueblo. | 5. Soberanía Nacional. |



6) Sitúa en el MAPA DE ANDALUCÍA los siguientes BIENES CULTURALES del Patrimonio Andaluz: **1 PUNTO**

- TORRE DEL ORO
- CASTILLO DE SANTA CATALINA
- PALACIO DE CARLOS V
- CONJUNTO ARQUEOLOGICO DE MEDINA ZAHARA



7) Marca con una X las respuestas correctas entre las afirmaciones que aparecen a continuación: **1 PUNTO**

- Las ciudades no tienen una función económica.
- La densidad de población mide la cantidad de habitantes de una ciudad.
- El cortijo andaluz es típico del hábitat urbano.
- Los bosques caducifolios se localizan principalmente en el hemisferio Norte.
- La Tasa de Mortalidad expresa la proporción de fallecidos en una población en un año.

8) Relaciona los siguientes HECHOS HISTÓRICOS con su cronología correspondiente: **1 PUNTO**

- “Descubrimiento” del continente americano: _____
- Invasión de la Península Ibérica por los árabes: _____

476
2 de Mayo de 1808



- Segunda Guerra Mundial: _____
- Inicio de la Guerra de Independencia española: _____
- “Caída” del Imperio Romano de Occidente: _____

711
12 de Octubre de 1492
1939-1945



PRUEBA ACCESO A CICLOS FORMATIVOS DE GRADO MEDIO

PARTE SOCIAL

DATOS DEL ASPIRANTE		CALIFICACIÓN PRUEBA	
Apellidos:		Nombre:	
D.N.I. o Pasaporte:	Fecha de nacimiento: / /		

Instrucciones:

- **Lee atentamente cada una de las preguntas antes de contestar.**
- **La puntuación máxima de cada pregunta está indicada en cada enunciado.**
- **Revisa cuidadosamente la prueba antes de entregarla.**

1) Marca con una X las respuestas correctas entre las afirmaciones que aparecen a continuación: 1

PUNTO

- La Deuda Externa no deja de crecer en los países subdesarrollados.
- El Índice de Desarrollo Humano mide el crecimiento de la población.
- La Globalización tiende a unificar economías y culturas.
- En muchos países, la mujer no tiene los mismos derechos que el hombre.
- Suiza es uno de los estados miembros de la Unión Europea.

2) Lee el siguiente documento y contesta a las preguntas: 2

PUNTOS

EFE - Bruselas - 08/02/2008

Los españoles son los ciudadanos de la UE que más temen una mala utilización de sus datos bancarios o personales cuando compran por Internet, una opción que en España sólo utiliza el 18% de la población entre 16 y 74 años, frente al 30% de media de los Veintisiete. Según la información facilitada hoy por Eurostat, la oficina estadística comunitaria, el 27% de los españoles en esa franja de edad evita hacer compras en la Red por miedo a la falta de seguridad en las operaciones, muy por encima de la media del 12% en la UE.

En uso de Internet, España está, sin embargo, más cerca de la media comunitaria, ya que el 52% de los ciudadanos de 16 a 74 años lo utiliza, sólo cinco puntos menos. Los países más avanzados en este ámbito son Holanda (donde el 84% de la población lo ha usado en los últimos tres meses), Dinamarca (81%), Suecia (80%), Finlandia (79%) y Luxemburgo (78%), y los más rezagados Rumanía (24%), Bulgaria (31%) y Grecia (33%).

Resulta más habitual que los internautas utilicen la Red para operaciones bancarias, algo que ya hace el 44% de los europeos y el 31% de los españoles entre 16 y 74 años.

Diario PUBLICO

- ¿Por qué motivo los españoles realizan sus compras por Internet por debajo de la media europea?

- ¿Cuáles son los países que menos utilizan Internet?



- ¿Qué operación comercial por Internet se utiliza más en España?

3) Localiza y sitúa en el MAPA DE EUROPA los estados que se citan el texto periodístico:

1 PUNTO



4) Relaciona mediante flechas los siguientes BIENES CULTURALES ANDALUCES con su CRONOLOGÍA adecuada:
1 PUNTO

- | | |
|---------------------------------|-------------|
| - <i>Catedral de Jaén.</i> | - S. VIII-X |
| - <i>Anfiteatro de Itálica.</i> | - S. XVIII |
| - <i>Catedral de Cádiz.</i> | - S. I d.C. |
| - <i>Mezquita de Córdoba.</i> | - S. XVI |

5) Empareja las siguientes OBRAS DE ARTE con su CULTURA adecuada, marcando el número correspondiente en cada casilla:

1

- | | | |
|--------------------------|-----------------------|----------------|
| <input type="checkbox"/> | Busto de Nefertiti | 1 Arte griego |
| <input type="checkbox"/> | Inmaculada de Murillo | 2 Arte egipcio |
| <input type="checkbox"/> | Alcázar de Sevilla | 3 Arte Gótico |



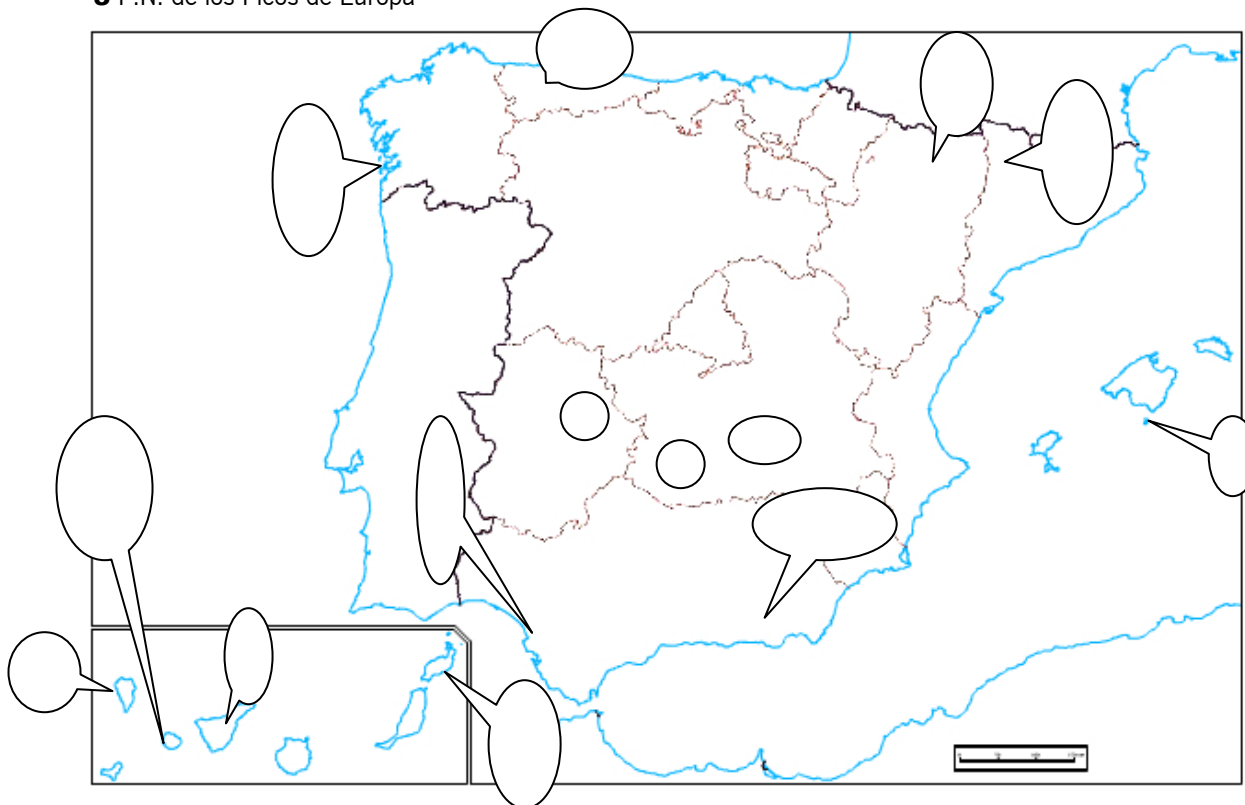
- | | | |
|--------------------------|----------------------------------|----------------|
| <input type="checkbox"/> | Catedral de Burgos | 4 Arte Barroco |
| <input type="checkbox"/> | Templo de Atenea en la Acrópolis | 5 Arte Mudéjar |

6) Localiza y sitúa en su lugar los siguientes PARQUES NACIONALES:

1

PUNTO

- | | |
|------------------------------------|---------------------------|
| - 1 P.N. de Ordesa y Monte Perdido | - 4 P.N. de Monfragüe |
| - 2 P.N. del Teide | - 5 P.N. de Sierra Nevada |
| - 3 P.N. de los Picos de Europa | |



7) Relaciona mediante flechas los siguientes conceptos:

1 PUNTO

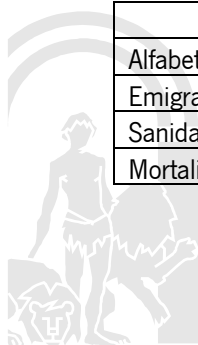
- | | |
|------------------|-----------------------------|
| - Géiseres | - Contaminación atmosférica |
| - Desiertos | - Energía alternativa |
| - Ganadería | - Energía geotérmica |
| - Lluvia ácida | - Regiones biogeográficas |
| - Energía eólica | - Recursos animales |

8) Completa el cuadro siguiente indicando ALTA o BAJA donde corresponda:

1

PUNTO

	Países subdesarrollados	Países desarrollados
Alfabetización		
Emigración		
Sanidad		
Mortalidad infantil		



Renta per Cápita		
------------------	--	--

9) Completa los espacios vacíos en el siguiente recuadro:

1 PUNTO

HECHO HISTÓRICO	CRONOLOGÍA	PERSONAJE
Expulsión de los judíos	1492	
	1492	Cristóbal Colón
Conquista de Granada		Reyes Católicos
Revolución Francesa		Robespierre
	1917	V.I. Lenin



PRUEBA ACCESO A CICLOS FORMATIVOS DE GRADO MEDIO

PARTE SOCIAL

DATOS DEL ASPIRANTE		CALIFICACIÓN PRUEBA	
Apellidos:		Nombre:	
D.N.I. o Pasaporte:	Fecha de nacimiento: / /		

Instrucciones:

- **Lee atentamente cada una de las preguntas antes de contestar.**
- **La puntuación máxima de cada pregunta está indicada en cada enunciado.**
- **Revisa cuidadosamente la prueba antes de entregarla.**

1) Completa las siguientes definiciones utilizando el concepto adecuado entre los que aparecen entre los paréntesis: 1 PUNTO

- La distancia entre un punto cualquiera y el Ecuador se llama _____
(Longitud/ Escala/ Latitud)
- El turismo _____ es el que suele provocar mayor impacto negativo en el Medio Ambiente.
(Religioso/ Rural/ Litoral)
- La sabana es una formación herbácea característica del medio natural _____.
(Mediterráneo/ Tropical/ Ecuatorial)
- La evolución natural de una población a lo largo de un año se conoce a través de _____ (Tasa de Natalidad/ Crecimiento Vegetativo/ Esperanza de vida).
- La migración del ganado en busca de aguas y de pastos se llama _____
(Estabulación / Trashumancia/ Extensiva)

2) Empareja los siguientes BIENES CULTURALES con su ETAPA HISTÓRICA adecuada, marcando el número correspondiente en cada casilla: 1 PUNTO

- | | | |
|--------------------------|---------------------------------------|---------------------------------------|
| <input type="checkbox"/> | Mezquita de Córdoba | 1. Romanización de Hispania (S. II) |
| <input type="checkbox"/> | Conjunto Arqueológico de Los Millares | 2. Renacimiento artístico, (S. XVI) |
| <input type="checkbox"/> | Catedral de Jaén | 3. Edad del Bronce (III milenio a.C.) |
| <input type="checkbox"/> | Puente Nuevo del Tajo de Ronda | 4. Al-Andalus, (S. VIII- X) |
| <input type="checkbox"/> | Conjunto Arqueológico de Itálica | 5. Reformismo borbónico, (S. XVIII) |

3) Relaciona mediante flechas los siguientes conceptos: PUNTO

1

- | | |
|------------------------|--------------------------------|
| - LIBERALISMO POLÍTICO | - Derecho de Autodeterminación |
| - NACIONALISMO | - Libertad de Prensa |
| - MARXISMO | - Abolición del Estado |
| - ANARQUISMO | - Lucha de clases |
| - ABSOLUTISMO | - Antiguo Régimen |



4) Localiza y sitúa correctamente en el PLANISFERIO los siguientes datos:
PUNTO

1

- Meridiano 0° ó de Greenwich
- Trópico de Cáncer
- Un punto cualquiera localizado en Latitud Sur y Longitud Este.
- Círculo Glacial Ártico
- Línea del Ecuador



5) Marca con una X las respuestas correctas entre las afirmaciones que aparecen a continuación:
PUNTO

1

- El desarrollo sostenible se alcanza incrementando el consumo energético.
- La Deuda Externa caracteriza a los países desarrollados.
- El 5% de la población desnutrida vive en países desarrollados.
- El cambio climático sólo afecta a los países desarrollados.
- La contaminación amenaza la biodiversidad.

6) Corrige las respuestas erróneas y redáctalas correctamente:
PUNTO

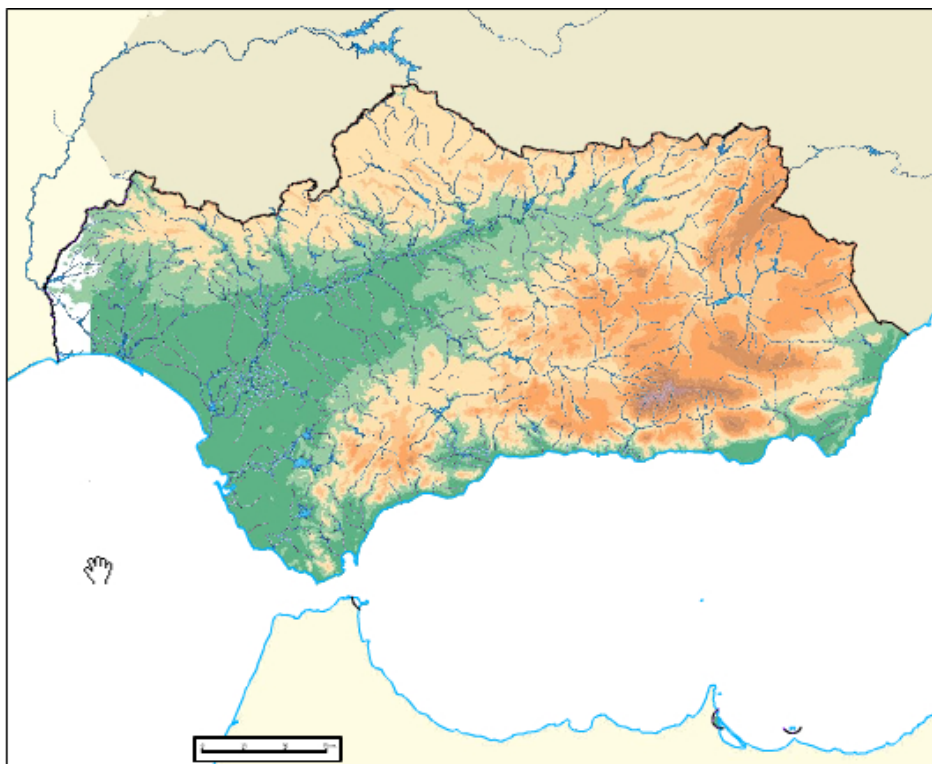
1



7) Localiza y sitúa correctamente en el MAPA DE ANDALUCÍA las siguientes unidades de su relieve, hidrografía y costas:

2 PUNTOS

- Río Guadalquivir
- Sierra Morena
- Estrecho de Gibraltar
- Mar Mediterráneo
- Río Genil
- Golfo de Cádiz
- Cordillera Penibética
- Sierra de Cazorla
- Cabo de Gata
- Sierra Nevada



8) Completa los espacios vacíos en el siguiente recuadro:

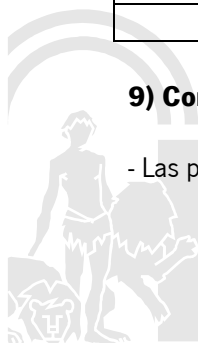
1 PUNTO

HECHO HISTÓRICO	CRONOLOGÍA	PERSONAJE
Guerra Civil Española	1936-1939	
Conquista de Granada		Reyes Católicos
	1492	Cristóbal Colón
Conquista de las Galias	S. I antes de Cristo	
2ª Guerra Mundial		Iosif Stalin


9) Contesta VERDADERO o FALSO a las siguientes afirmaciones:

1 PUNTO

- Las pinturas rupestres de Altamira son de la etapa Paleolítica.



- Las Catedrales románicas las construyeron los romanos.
- La escultura renacentista recupera temas mitológicos.
- Las pirámides egipcias fueron construidas por los romanos.
- Los templos griegos destacan por su armonía y proporciones.



PRUEBA ACCESO A CICLOS FORMATIVOS DE GRADO MEDIO

PARTE SOCIAL

DATOS DEL ASPIRANTE		CALIFICACIÓN PRUEBA	
Apellidos:		Nombre:	
D.N.I. o Pasaporte:	Fecha de nacimiento: / /		

Instrucciones:

- **Lee atentamente cada una de las preguntas antes de contestar.**
- **La puntuación máxima de cada pregunta está indicada en cada enunciado.**
- **Revisa cuidadosamente la prueba antes de entregarla.**

1) Indica si son VERDADERAS o FALSAS las siguientes afirmaciones:

1 PUNTO

- El clima es el tiempo que hace en cada región de España.
- La energía hidroeléctrica es una energía renovable.
- La población mundial es de más de 6.400 millones de habitantes.
- La vida rural gira en torno a la producción agropecuaria.
- El comercio al por menor sólo se realiza en los países subdesarrollados.

2) Relaciona mediante flechas los siguientes conceptos:

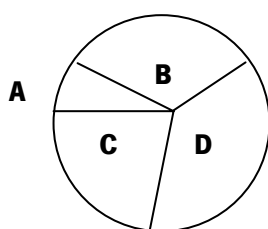
1 PUNTO

- | | |
|-------------------|------------------------|
| - PALEOLÍTICO | - MONARQUÍA ABSOLUTA |
| - POLIS GRIEGAS | - REINO DE CASTILLA |
| - "RECONQUISTA" | - PRIMERA DEMOCRACIA |
| - ANTIGUO RÉGIMEN | - HERRAMIENTAS LÍTICAS |
| - CONSTITUCIÓN | - LIBERALISMO |

3) Observa la gráfica siguiente y contesta las preguntas a continuación:

2 PUNTOS

ORIGEN DE LA POBLACIÓN INMIGRANTE EN ESPAÑA




- A)** Procedencia asiática, 8%
- B)** Procedencia africana: 29%
- C)** Procedencia americana: 23%
- D)** Procedencia europea: 41%

- Cita 3 países americanos de origen de los inmigrantes en España:

- Cita asimismo tres países africanos:

- Señala tres causas que expliquen la entrada de inmigrantes en España:

- ¿Qué continente aporta mayor número de inmigrantes en España? ¿Son todos de las mismas características? ¿Por qué?



4) Localiza y sitúa en el Planisferio los siguientes Estados:

1 PUNTO

- Rusia
- Estados Unidos
- Australia
- China
- Egipto
- Brasil



5) Relaciona mediante flechas los siguientes Derechos y Libertades con el concepto que le corresponda:

1 PUNTO

- Derecho de Autodeterminación
- Libertad de Expresión
- Derecho a la Vida
- Libertad de Religión
- Derecho al Trabajo
- Abolición de la Pena de Muerte
- Independencia
- Supresión de la censura
- Protección a los desempleados
- Estado laico.

6) Relaciona las siguientes ARQUITECTURAS con su cronología correspondiente:

PUNTO

1

- Pirámides en Egipto: _____
- Iglesias y Catedrales barrocas: _____
- Templos griegos: _____
- Castillos medievales: _____
- Puentes romanos: _____
- Siglos XVII y XVIII
- III y IV milenio antes de Cristo (a.C.)
- Siglos VIII al XV
- Siglos II a.C. al V después de Cristo
- Siglos VI al II antes de Cristo.



7) Empareja las siguientes definiciones con su concepto adecuado, marcando el número correspondiente en cada casilla:

1 PUNTO

- | | | |
|--------------------------|--|----------------|
| <input type="checkbox"/> | Amplio espacio completamente urbanizado. | 1. POLICULTIVO |
| <input type="checkbox"/> | Superficie con arbolado dedicada a pastos. | 2. CALADERO |
| <input type="checkbox"/> | Zona marítima rica en pesca. | 3. DEHESA |
| <input type="checkbox"/> | Disminución del caudal de un río por sequía. | 4. MEGALÓPOLIS |
| <input type="checkbox"/> | Parcela dedicada a varios cultivos | 5. ESTIAJE |

8) Relaciona mediante flechas las siguientes HECHOS HISTÓRICOS con los PROTAGONISTAS adecuados: 1 PUNTO

- | | |
|---------------------------------------|----------------------|
| - Anarquismo | - Johannes Gutemberg |
| - Reforma Protestante | - George Washington |
| - Invención de la imprenta | - Mijail Bakunin |
| - Fascismo italiano | - Benito Mussolini |
| - Independencia de los Estados Unidos | - Martín Lutero. |

9) Completa las siguientes definiciones utilizando el concepto adecuado entre los que aparecen entre los paréntesis: 1 PUNTO

- La Alhambra de Granada es un ejemplo de arquitectura _____
(Clásica/ hispanomusulmana/ barroca)
- La Catedral de Sevilla es un ejemplo de arquitectura _____
(Gótica/ Románica/ Mudéjar)
- La Cueva de Menga en Antequera es una arquitectura _____
(Modernista/ Megalítica/ Industrial)
- El Foro de Baelo Claudia (Bolonia) corresponde a una arquitectura _____
(Barroca/ Hispanorromana/ Eclesiástica)
- La Iglesia del Salvador en Úbeda es una muestra de arquitectura _____
(Hispanomusulmana/ Racionalista/ Renacentista)



PRUEBA ACCESO A CICLOS FORMATIVOS DE GRADO MEDIO

PARTE SOCIAL

DATOS DEL ASPIRANTE		CALIFICACIÓN PRUEBA	
Apellidos:		Nombre:	
D.N.I. o Pasaporte:	Fecha de nacimiento: / /		

Instrucciones:

- **Lee atentamente cada una de las preguntas antes de contestar.**
- **La puntuación máxima de cada pregunta está indicada en cada enunciado.**
- **Revisa cuidadosamente la prueba antes de entregarla.**

1) Marca con una X las respuestas correctas entre las afirmaciones que aparecen a continuación: **1 PUNTO**

- La Deuda Externa no deja de crecer en los países subdesarrollados.
- El Índice de Desarrollo Humano mide el crecimiento de la población.
- La Globalización tiende a unificar economías y culturas.
- En muchos países, la mujer no tiene los mismos derechos que el hombre.
- Suiza es uno de los estados miembros de la Unión Europea.

2) Lee el siguiente documento y contesta a las preguntas: **2 PUNTOS**

EFE - Bruselas - 08/02/2008

Los españoles son los ciudadanos de la UE que más temen una mala utilización de sus datos bancarios o personales cuando compran por Internet, una opción que en España sólo utiliza el 18% de la población entre 16 y 74 años, frente al 30% de media de los Veintisiete. Según la información facilitada hoy por Eurostat, la oficina estadística comunitaria, el 27% de los españoles en esa franja de edad evita hacer compras en la Red por miedo a la falta de seguridad en las operaciones, muy por encima de la media del 12% en la UE.

En uso de Internet, España está, sin embargo, más cerca de la media comunitaria, ya que el 52% de los ciudadanos de 16 a 74 años lo utiliza, sólo cinco puntos menos. Los países más avanzados en este ámbito son Holanda (donde el 84% de la población lo ha usado en los últimos tres meses), Dinamarca (81%), Suecia (80%), Finlandia (79%) y Luxemburgo (78%), y los más rezagados Rumanía (24%), Bulgaria (31%) y Grecia (33%).

Resulta más habitual que los internautas utilicen la Red para operaciones bancarias, algo que ya hace el 44% de los europeos y el 31% de los españoles entre 16 y 74 años.

Diario PUBLICO

- ¿Por qué motivo los españoles realizan sus compras por Internet por debajo de la media europea?

- ¿Cuáles son los países que menos utilizan Internet?



- ¿Qué operación comercial por Internet se utiliza más en España?

- ¿Qué es la U.E.? ¿Cuántos países la componen?

**3) Localiza y sitúa en el MAPA DE EUROPA los estados que se citan el texto periodístico:
1 PUNTO**



4) Relaciona mediante flechas los siguientes monumentos con la provincia en la que se encuentran: 1 PUNTO

1. CÁDIZ	Mezquita
2. CÓRDOBA	Reales Alcázares
3. GRANADA	Ruinas de Baelo-Caludia
4. HUELVA	Alhambra
5. JAÉN	Palacio de Jabalquinto
6. SEVILLA	Monasterio de La Rábida

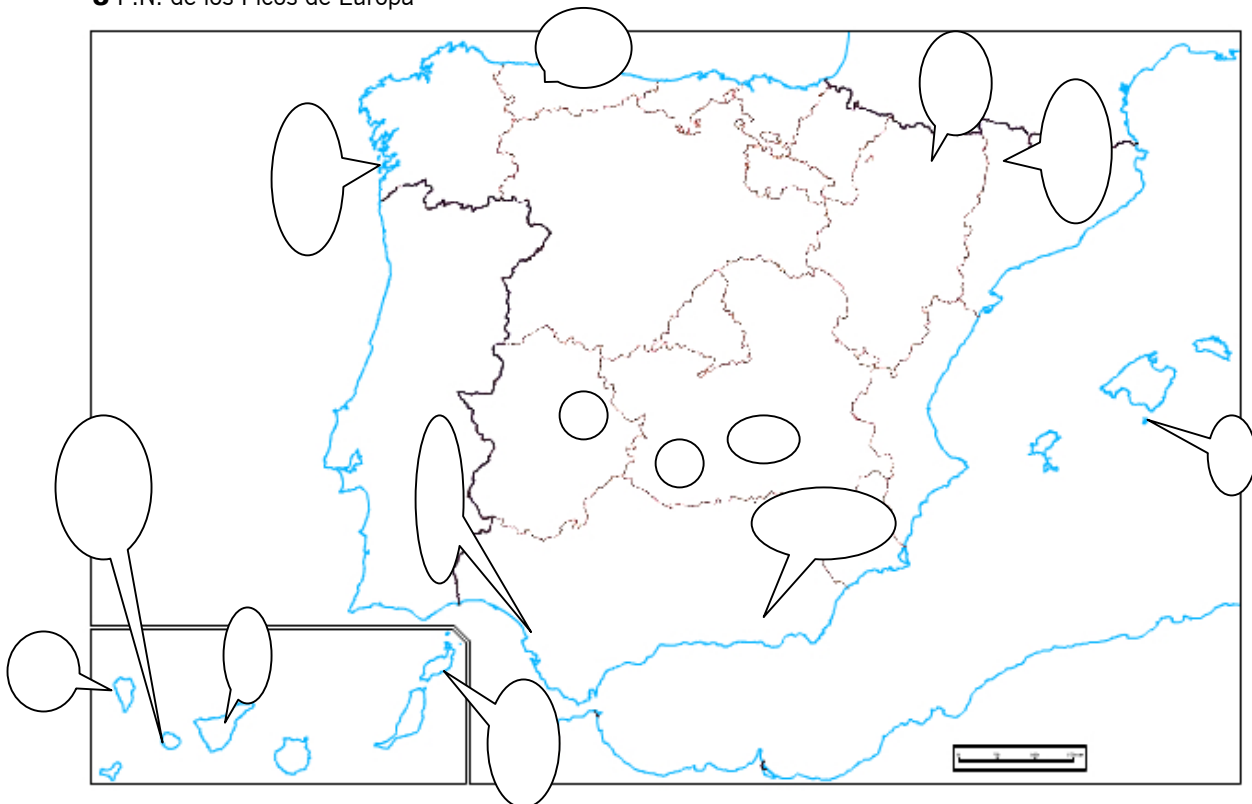


5) Empareja las siguientes OBRAS DE ARTE con su ESTILO o CULTURA adecuada, marcando el número correspondiente en cada casilla: 1 PUNTO

<input type="checkbox"/>	Busto de Nefertiti	1 Arte griego
<input type="checkbox"/>	Inmaculada, de B. E. Murillo	2 Arte egipcio
<input type="checkbox"/>	Alcázar de Sevilla	3 Estilo Gótico
<input type="checkbox"/>	Catedral de Burgos	4 Estilo Barroco
<input type="checkbox"/>	Templo de Atenea en la Acrópolis	5 Estilo Mudéjar

6) Localiza y sitúa en su lugar los siguientes PARQUES NACIONALES: 1 PUNTO

- 1 P.N. de Ordesa y Monte Perdido
- 2 P.N. del Teide
- 3 P.N. de los Picos de Europa
- 4 P.N. de Monfragüe
- 5 P.N. de Sierra Nevada



7) Relaciona mediante flechas los siguientes conceptos: 1 PUNTO

- | | |
|------------------|-----------------------------|
| - Géiseres | - Contaminación atmosférica |
| - Desiertos | - Energía alternativa |
| - Ganadería | - Energía geotérmica |
| - Lluvia ácida | - Regiones biogeográficas |
| - Energía eólica | - Recursos animales |



8) Completa el cuadro siguiente indicando ALTA o BAJA donde corresponda: 1 PUNTO

	Países subdesarrollados	Países desarrollados
Alfabetización		
Emigración		
Sanidad		
Mortalidad infantil		
Renta per Cápita		

9) Completa los espacios vacíos en el siguiente recuadro: 1 PUNTO

HECHO HISTÓRICO	CRONOLOGÍA	PERSONAJE
Expulsión de los judíos	1492	
	1492	Cristóbal Colón
Conquista de Granada		Reyes Católicos
Revolución Francesa		Robespierre
	1917	V.I. Lenin

